

Bu testte 20 soru vardır.
Cevaplarınızı, cevap kâğıdına işaretleyiniz.

1.	1	2	3	4	5
1					
2					
3					
4					

Yanda, bulmacada yer alan sözcüklerin sırasıyla anlamları ve bu sözcüklerin kullandığı örnek cümleler verilmiştir. Sözcükler, bulmacaya soldan sağa doğru ve sırasıyla yazılacaktır.

- Güçlü istek ve eğilimin yöneldiği amaç.
- Bir kimsenin toplum içindeki yeri, makamı.
- Bolluk ve rahatlık içinde yaşamak.
- Bele sarılan uzun ve enli kumaş.

Örnekler:

- Kuşağını çıkarıp yatağın üzerine attı.
- Halkın refah seviyesini yükseltmeyi hedefliyor.
- Başarılı olma tutkusu onu kör etti.
- Herkes kendi statüsünü korumak istiyor.

Buna göre, sözcükler bulmacaya doğru sırayla yazıldığında 4. sütun aşağıdakilerden hangisi olur?

A)

K
T
A
A

B)

U
Ü
U
K

C)

U
T
E
V

D)

T
A
K
S

- Yine dört ayak üstüne düştün, zarar etmedin.
 - Baş başa vermeyince taş yerinden kalkmaz.
 - Sen de pireyi deve yaparsın.
 - Başak büyüdükçe boynunu eğer.

Aşağıdaki sözcüklerden hangisi yukarıdaki deyim ve atasözlerinin ifade ettiği anlamlardan biri olamaz?

- A) Alçak gönüllülük B) Dayanışma
C) Şans D) Küçümseme

- Geçmişte çok büyük yanlışlar yapıp bunların farkına varan insanlar, ömürlerinin kalan kısmını geçirirler. Asla mutlu olamaz, kendi kabuklarına çekilerek kalmayı seçerler. Çünkü her şey onlara günahlarını Tek çare yalnızlıktır.

Metinde boş bırakılan yerlere sırasıyla aşağıdakilerden hangisi getirilmelidir?

- A) pişmanlıkla - yalnız - hatırlatır
B) neşeli - huzurlu - unutturur
C) hasta - sosyal - sorguladır
D) yalnız - mutlu - aratır

4, 5 ve 6. soruları aşağıdaki metne göre yanıtlayınız.

Doğu Karadeniz bölgesinin en son ve sınır vilayeti olan I

Artvin; tam anlamıyla bir tarih, kültür ve uygarlıklar şehridir. Çeşitli topluluklar yörede yerleşkeler oluşturarak kendi yaşam biçimlerini kolaylaştırıcı çeşitli el sanatlarını geliştirmişlerdir. Bu bağlamda Artvin ilinin II

şirin bir ilçesi olan Macahel (Camili), doğal güzelliklerinin yanında Artvin'e ve yöreye özgü el sanatlarının zenginliğiyle öne çıkmaktadır. Macahel ve yöresi bu bağlamda yaşamla beraber zengin ve çok yönlü el sanatlarıyla iç içe yaşayan bir yöre olarak tarif edilebilir. Macahel halkı, yöreye özgü zengin el sanatlarıyla yaşamını sürdürmüş ve günümüze kadar bu güzel el sanatlarının örneklerini taşımışlardır. Yöredeki el III

sanatlarının ham maddesi, o yörede yetişen yer altı ve IV

yer üstü zenginlikleridir. Macahel, bu yönüyle çok şanslıdır. Aynı zamanda yöre insanı, doğal şartlarının zorluğundan dolayı kendine özgü ve kendi yaşamına uygun el sanatları çeşitlerini geliştirmişlerdir.

4. Bu metinde anlatılanlardan Artvin ve Macahel ile ilgili olarak aşağıdakilerden hangisine ulaşamaz?

- A) El sanatlarının neden ve nasıl çeşitlendiğine
- B) İlin ve ilçenin neyle öne çıktığına
- C) Doğal şartlarının zorluklarının nasıl sonuçlandığına
- D) Kalabalık bir nüfusa sahip olduğuna

5. Bu metindeki numaralanmış yerlerin hangisinde yazım yanlışı yapılmıştır?

- A) I.
- B) II.
- C) III.
- D) IV.

6. Bu metnin anlatımı için aşağıdakilerden hangisi söylenemez?

- A) Açıklayıcı anlatım ağır basmaktadır.
- B) Kanıtlanabilir nitelikte cümlelere yer verilmiştir.
- C) Alıntı yapmadan yararlanılmıştır.
- D) 3. kişili anlatım yapılmıştır.

7.

Mısır Piramitleri, kendi zamanlarında tanrılara denk kabul edilen firavunların mezarları olarak inşa edilmişlerdir. 140'a yakın piramit bulunmaktadır ve bunların en bilineni, kartpostallarda sürekli rastladığımız Gize Piramitleri'dir. En geniş mısır piramidi ise meşhur Keops Piramidi'dir. Günümüzde, piramitlerin sırrı hâlâ çözülebilmemiş değildir. Piramitler hakkında birçok söylenti bulunmaktadır. Örneğin, bir kova dolusu kirlı suyu piramidin içine bıraktırsanız birkaç gün sonra bu suyu temizlenmiş bir şekilde bulabilmişsiniz ya da bir piramidin içine ağzına kadar dolu bir çöp bidonu bıraktığınızda bu çöp bidonun içindeki yemek artıkları etrafı hiç kokutmaz ve belli bir süre sonra mumyalaşmış. Dahası, diyorlar ki piramitlerin içine koyduğunuz bir miktar süt, bozulmadan günlerce kalabilmiş ve kendilerini yoğurt olarak bulabilmişsiniz. Söylentilere göre açık bir yarayla piramitlerin içine girer ve yeteri kadar beklerseniz yaranızın dışarıya oranla iki kat daha hızlı iyileştiğini gözlemleyebilmişsiniz.


Bu metinden yola çıkılarak,

- I. Mısır Piramitleri, mezar niteliğindedir ve firavunlar için inşa edilmiştir.
- II. Mısır Piramitleri'nin gizemi yapılan yoğun çalışmalar sonucu çözülmüştür.
- III. Mısır Piramitleri'nin şaşırtıcı birçok özelliği bulunsa da bunların çoğu söylenti niteliğindedir.
- IV. Mısır Piramitleri, bir mühendislik ve mimari harikası olarak değerlendirilmektedir.

yargılarından hangisi veya hangileri söylenebilir?

- A) Yalnızca I.
- B) I ve III.
- C) II ve IV.
- D) I, III ve IV.

8.



Bu metinlerde anlatılanlardan aşağıdakilerden hangisine kesin olarak ulaşılamaz?

- A) İbni Battuta, bir türün ortaya çıkmasına öncülük etmiştir.
 B) Tüm keşiflerin ortak noktası merak unsurundan yola çıkmalarıdır.
 C) James Cook, sözü edilen keşiflerin hepsinden daha çok yer keşfetmiştir.
 D) Magellan, iddiasını gerçekleştirip de ekibinin bir kısmı bunu başarmıştır.

9.

Dostlarınıza karşı sevginizde ölçülü kalın. Böylece kimseye gereğinden fazla bağlanmaz; onların güzel taraflarını tadarsınız, üzülmezsiniz.

Yukarıdaki cümlede verilen "sevgide ölçülü kalmak" ifadesiyle anlatılmak istenen aşağıdakilerden hangisidir?

- A) Tüm benliğiyle sevebilmek
 B) Her şeyiyle kabullenebilmek
 C) Kimseyi kendisi kadar sevmemek
 D) Gereğinden fazla ya da az sevgi göstermemek

10. "★" ve "●"den oluşan bir şifreleme sisteminde şifrelenen bazı harfler aşağıda verilmiştir.

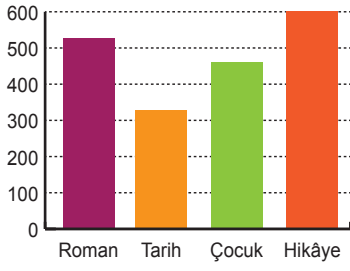
Z	● ● ★
E	★ ●
A	★ ★ ●

M	● ★
L	★ ● ●
İ	● ★ ●

Buna göre "AZİM" sözcüğünün kodu aşağıdakilerden hangisidir?

- A) ★ ★ ● ★ ● ★ ● ★ ●
 B) ★ ★ ● ★ ● ● ● ● ★
 C) ★ ● ★ ● ● ● ★ ● ● ★
 D) ★ ★ ● ● ● ★ ● ★ ● ● ★

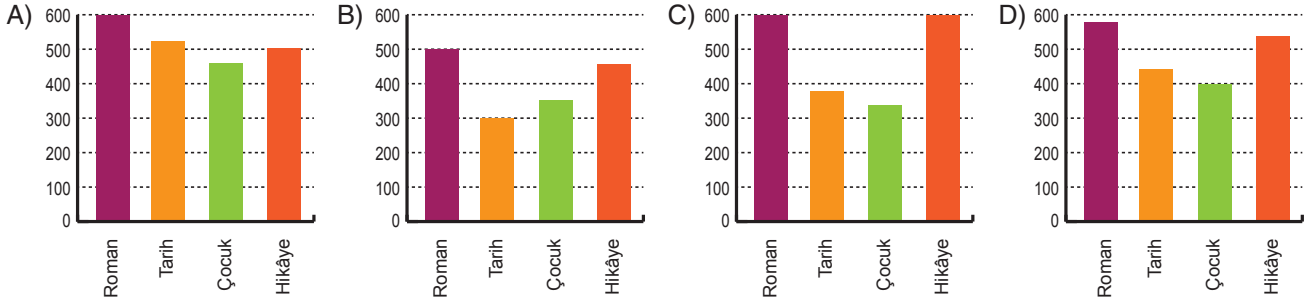
11. Yukarıdaki grafikte bir kitapçının 2018 yılında sattığı kitapların türlerine göre miktarı gösterilmiştir.



Bu kitapçının 2019 yılında sattığı kitap miktarlarıyla ilgili şu sonuçlara ulaşılmıştır:

- En az satılan kitaplar çocuk kitaplarıdır.
- Hikâye kitaplarının satışında 2018'e göre azalma olmuştur.
- 2018'de en çok satılan ikinci kitap türü, 2019'da en çok satılan kitap türü olmuştur.
- 2018'de en az satılan kitap türü, en çok satılan üçüncü kitap türü olmuştur.

Buna göre, sözü edilen kitapçının 2019 yılındaki satışlarını gösteren grafik aşağıdakilerden hangisidir?



12.

Hafıza geliştirmenin birçok tekniği vardır. Kağıt, kalem kullanmadan yapacağınız beyin egzersizleri, beyninizi etkin olarak kullanmanızı sağlar. Bu teknikleri yolda, arabada giderken, otobüs beklerken, yemek yerken gün içinde rahatlıkla uygulayabilirsiniz. Bir süre sonra bundan zevk almaya başladığınızı göreceksiniz. Bulmaca çözmek, satranç oynamak gibi faaliyetler de hem eğlenceli hem de hafızanızı güçlendirici tekniklerdir.

Bu parçada aşağıdaki sorulardan hangisinin yanıtı yoktur?

- Hafıza teknikleri ne işe yarar?
- Hafıza teknikleri nerelerde uygulanır?
- Hafıza güçlendirici faaliyetler nelerdir?
- Hafıza tekniklerinde hangi metot daha çok işe yarar?

13.

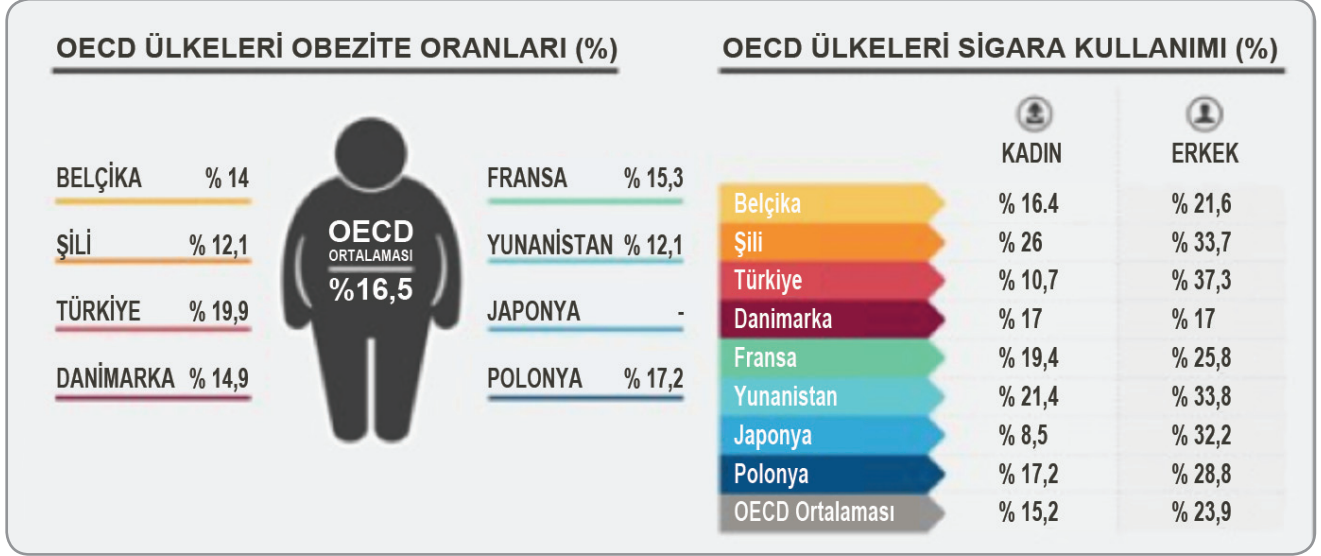
Fiil köklerine gelen kalıplaşmış eklerin, sözcüğü isim, sıfat, zarf görevine sokmasıyla ortaya çıkan sözcüğe "fiilimsi" denir. Fiil kökünden türeyen fiilimsiler, çekimli fiillerle karıştırılmamalıdır.

Normal zekâya sahip olan herkes, hafızasını yani hatırlama yeteneğini fazlasıyla geliştirebilir. Yaşadığımız her olay sırasında gördüğümüz, dokunduğumuz, tattığımız, işittiğimiz ve kokladığımız her şey, hafızamızda yer eder.

Yukarıdaki açıklamaya göre bu metinde kaç fiilimsi kullanılmıştır?

- 6
- 7
- 8
- 9

14. Ekonomik Kalkınma ve İşbirliği Örgütü (OECD) ülkeleri bazında obezite ve sigara kullanımına ilişkin yapılan araştırma, aşağıda verilmiştir.



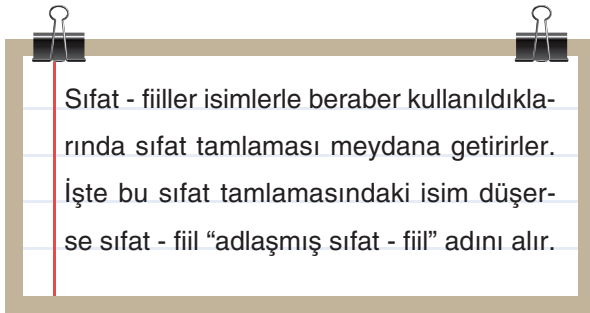
Bu tabloya göre;

- I. Japonya'da obezite sorunu bulunmamaktadır.
- II. OECD ülkelerinin ortalamasına göre kadınlar, erkeklerden daha fazla sigara tüketmektedir.
- III. Sigara kullanımı, ülkelerin gelişmişlik düzeyi ile bağlantılıdır.
- IV. Türkiye, en yüksek obezite oranına sahiptir.

yukarıdakilerden hangisi kesinlikle söylenebilir?

- A) I ve III. B) I, III ve IV. C) I ve IV. D) II ve III.

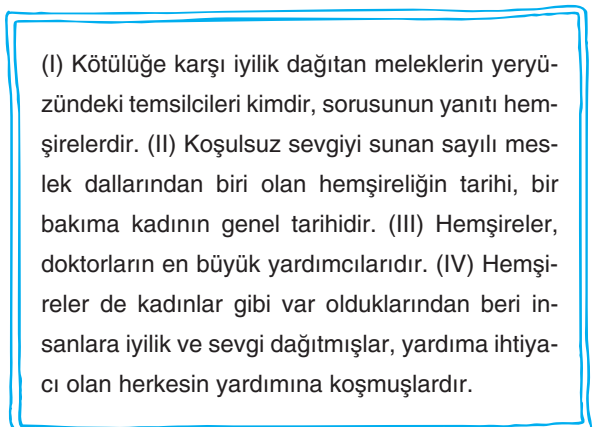
15.



Aşağıdakilerden hangisinde bu duruma örnek bir kullanım vardır?

- A) Kapıyı çalan üst komşumuzdu.
- B) Söylediği sözlerle bizi utandırdı.
- C) Gelen mesaj çok şaşırtıcıydı.
- D) Annem, gelecek misafirleri bekliyordu.

16.



Yukarıda numaralanmış cümlelerden hangisi anlatımın akışını bozmaktadır?

- A) I. B) II. C) III. D) IV.

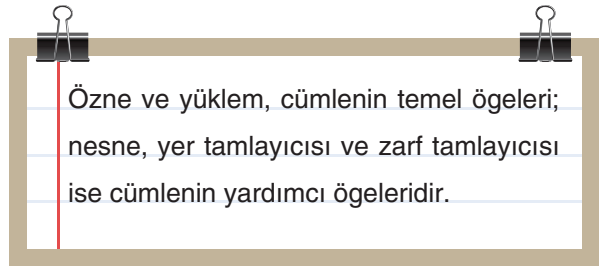
17. Naz, Elif, Yalın, Ahmet, Ecrin ve Deniz adlı 6 kardeşin aralarında birer yaş fark vardır. Bu kişiler ve yaşlarıyla ilgili bilgiler şu şekildedir:



Buna göre aşağıdakilerden hangisi kesinlikle doğrudur?

- A) Yalın, kardeşlerin en büyüğüdür.
 B) Naz, Deniz'den küçüktür.
 C) Elif, Yalın'dan küçüktür.
 D) En küçükleri Naz'dır.
18. Aşağıdaki cümlelerin hangisinde cümlenin öznesi yanlış gösterilmiştir?
- A) Hava, hafta sonuna kadar kapalıymış.
 B) Arkadaşlarının hepsi geziye katılacaktı.
 C) Tahtada yazanları defterine geçirdi.
 D) Anlatılanların bir kısmı, sınavda çıkmayacaktı.
19. Aşağıdaki cümlelerin hangisinde virgül "Yaptığımız projeler, bizim başarımızın somut kanıtlarıdır." cümlesindeki göreviyle kullanılmıştır?
- A) Bize, şaşırtıcı ama, o günden sonra kimse karışmamıştı.
 B) Yardımsever, iyi niyetli insanlardı yeni komşularımız.
 C) Dostluk, iki kişinin gönül birliğiyle dokunan bir kumaştır.
 D) Seni sonra ararım, dedi ve iş yerinden çıktı.

20.



Aşağıdaki cümlelerden hangisi yalnızca temel öğelerden oluşmaktadır?

- A) İngilizlere ait ünlü kozmetik firması Türkiye'de satışa başladı.
 B) Telefon ve tableten başka bir şey ilgisini çekmiyor.
 C) Müdür Bey, öğretmenleri birazdan çağıracaktı.
 D) Söylediklerimizi gülerek dinledi.

Bu testte 10 soru vardır.
Cevaplarınızı, cevap kâğıdına işaretleyiniz.

1. Osmanlı ülkesini parçalama ve bölüşme çabalarını somutlaştıran Mondros Ateşkes Antlaşması'nın bazı maddeleri şöyledir:

Hudutların muhafazası ve asayişin korunması için lüzum görülecek askeri kuvvetler dışında hemen terhis olunması (Miktarı daha sonra İtilaf Devletlerince belirlenecektir.)
Bütün liman ve demir yerlerinden, İtilaf mensup gemilerin yararlanması ve Toros tünellerinin işgali
Telsiz telgraflarla, kabloların İtilaf memurları tarafından kullanılması
Karadeniz'i geçmek için, Çanakkale ve İstanbul Boğazları'nın açılması ve Boğazlardaki istihkâmın İtilaflar tarafından işgali

Buna göre söz konusu maddeler

- I. Ulaşım II. Savunma III. Haberleşme

alanlarından hangisinde veya hangilerinde bir denetime gidileceğini göstermektedir?

- A) Yalnız I. B) Yalnız II. C) I ve III. D) I, II ve III.

2.

Avrupa'nın büyük devletleri gelişen sanayilerine hammadde arayışları içerisinde oldukları bir dönemde, potansiyel hammadde kaynaklarına sahip Osmanlı Devleti topraklarını paylaşmak arzusundaydılar. Bunun için de Osmanlı Devleti içerisindeki azınlıkları kullanmaktan geri durmamışlardır. Bunun dışında 19. yüzyıl boyunca reformlarla olumlu ilerlemeler kaydedilmiş olmasına rağmen, Türk ulusu öncelikli olarak çağdaş toplumlara ayak uydurmak konusunda istenen topyekûn modern yapılanmayı gerçekleştirilememiştir.

Parçada verilen ifadeler doğrultusunda aşağıdaki çıkarımlardan hangisine ulaşamaz?

- A) Batılı ülkeler Osmanlı toprak bütünlüğünün korunmamasından yana tavır takınmıştır.
B) Osmanlı yöneticileri modern çağa uymak için bir takım yenileşme hareketinde bulunmuştur.
C) Avrupalılar kendi çıkarları doğrultusunda Osmanlı'nın iç işlerine karışmıştır.
D) Türk idaresi altındaki zengin yeraltı kaynakları sömürgeci devletlerin denetimine girmiştir.

3.

Birinci Dünya Savaşı'nın başlamasında etkili olan gelişmelerden biri şöyledir: Balkan Savaşları ve bu savaşların sonunda, Sırbistan'ın genişleyip kuvvetlenmesi Avusturya için korkutucu olmuştur. Avusturya bu nedenle Sırbistan'a karşı daha fazla sertleşmiştir. Balkan Savaşlarında Osmanlı Devleti'nin yenilgisi ve milletlerarası plandaki zayıflığı Rusya'nın da Boğazlar üzerindeki iştahını kamçulamıştır. Bu durum Sırbistan ile Rusya'yı birbirine daha fazla yakınlaştırmıştır. Rusya'nın Balkanlar'daki faaliyetleri, Avusturya-Macaristan ile Almanya'nın Rusya'nın karşısına dikilmesine sebep olmuştur. Osmanlı Devleti de Rusya'nın saldırgan tutumu karşısında Almanların lehine siyasi adımlar atmaya yönelmiştir.

Söz konusu gelişmeler dikkate alındığında

- I. Balkanlarda büyük bir güç çekişmesinin yaşandığına
II. Rusya'nın yayılmacı ve işgalci bir eğilim içinde olduğuna
III. Birinci Dünya Savaşı öncesi tüm blokların kesin bir hâl aldığına

yargılarından hangisine ya da hangilerine ulaşılabilir?

- A) Yalnız I. B) Yalnız III. C) I ve II. D) I, II ve III.

4. • Suriye'deki Dürzî ayaklanmasının bastırılmasında etkili bir rol üstlenmiştir.
• Trablusgarp' da şeyhlerin önyak olduğu ayaklanma hazırlığının giderilmesinde görev aldı.
• Avusturya-Macaristan'ın Bosna Hersek bölgesine asker yığması üzerine Bosna'da istihbarat çalışması yürüttü.
• 31 Mart Ayaklanmasını bastırmak üzere Selanik'te teşkil edilen Hareket Ordusu ile İstanbul'a hareket etti ve ayaklanmanın bastırılmasında görev aldı.

Mustafa Kemal'in aldığı görevler onun özellikle aşağıdaki alanlardan hangisine deneyim sahibi olmasını sağlamıştır?

- A) Siyasi B) Askerî C) Psikolojik D) Toplumsal

5.

Osmanlı Mebusan Meclisi'nin, İstanbul'un işgali ile çalışamaz duruma düşmesi ve dağıtılması Mustafa Kemal Paşa'nın ne kadar ileri görüşlü olduğunu göstermişti. İstanbul'un işgali, Mustafa Kemal Paşaya kurtuluş için düşündüklerini yapabileme fırsatını verdi. Mustafa Kemal yaşanan krizi Ankara'da Millet Meclisini açarak fırsata dönüştürdü. Yaşanan bu gelişme karşısında meclise karşı çeşitli ayaklanmalar ortaya çıktı. Meclis isyanları bastırmak amacıyla çeşitli uygulamaları hayata geçirdi.

Buna göre isyanları bastırmak için hayata geçirilen aşağıdaki uygulamalardan hangisi meclisin yargı yetkisini kullandığını göstermektedir?

- A) Düzenli birlikler kuruldu. B) Hıyanet-i Vataniye Kanunu çıkarıldı.
C) İstiklal Mahkemeleri kuruldu. D) Ankara Müftüsü Rifat Börekçi'den fetva alındı.

6.

Mustafa Kemal Atatürk, 13 Ocak 1921 tarihinde Birinci İnönü Muharebesi ile ilgili Mecliste yaptığı konuşmada kendisini daha rüştiye öğrencisi iken kitaplarını okuduğu Namık Kemal'in bir şiirini okumuştur:

*"Vatanın bağına düşman dayadı hançerini
Yok mu bahtı kara kurtaracak maderini"*

bu şiiri okuduktan sonra Mustafa Kemal Atatürk şöyle devam eder: İşte bu kürsüden bu Meclisi âlinin reisi sıfatıyla bütün millet namına diyorum ki:

*"Vatanın bağına düşman dayasın hançerini
Bulunur kurtaracak bahtı kara maderini"*

Söz konusu ifadeler Mustafa Kemal'in

- I. İleri görüşlü II. Milliyetçi III. Vatansever

kişilik özelliklerinden hangisini vurgulamaktadır?

- A) Yalnız I. B) Yalnız II. C) I ve II. D) II ve III.

7.

Osmanlı İmparatorluğu I. Dünya Savaşı'ndan yenilgiyle çıkmıştır. Savaşı durdurmak için imzalanan Mondros Ateşkes Antlaşması uyarınca Türk Ordusu'nun terhis edilmesi maddesi kabul edilmiştir. Antlaşmanın imzalanmasından kısa bir zaman sonra İtilaf Devletleri savunmasız kalan Anadolu'yu yer yer işgal etmeye başlamıştır. Bunun yanında Damat Ferit Paşa hükümetinin, işgallere seyirci kalan ve itidal tavsiye etmekten başka herhangi bir girişimde ve faaliyette bulunmaması Anadolu halkının bağımsızlık duygusu ile hareket ederek Kuvayımilliyeye birliklerinin kurmasında etkili olmuştur.

Buna göre Kuvayımilliyeye birlikleriyle ilgili;

- I. İstanbul Hükümeti bu birliklerin örgütlenmesine öncülük etmiştir.
II. Kuruluşunda Anadolu halkının milliyetçi duruşu etkili olmuştur.
III. Farklı bölgelerde kurulup birlikte hareket etmişlerdir.

çıkartımlarından hangilerine ulaşılabilir?

- A) I ve II. B) Yalnız II. C) I ve III. D) II ve III.

8. Amasya Genelgesi	Milletin bağımsızlığını yine milletin azmi ve kararı kurtaracaktır.
Erzurum Kongresi	Manda ve himaye kabul olunamaz.
Sivas Kongresi	Milli cemiyetler "Anadolu ve Rumeli Müdafaa-i Hukuk Cemiyeti" adını alarak birleştirilmiştir.

Milli Mücadele Hazırlık döneminde alanın kararlar ve ilgili oldukları kavramlar eşleştirildiğinde aşağıdaki seçeneklerden hangisi doğru olacaktır?

	Amasya Genelgesi	Erzurum Kongresi	Sivas Kongresi
A)	Ulusal bağımsızlık	Milli egemenlik	Milli beraberlik
B)	Tam bağımsızlık	Eşitlik	Ulusal egemenlik
C)	Ulusal egemenlik	Tam bağımsızlık	Milli beraberlik
D)	Milli egemenlik	Milli beraberlik	Tam bağımsızlık

9. Atatürk'e göre tam bağımsızlık (istiklal-i tam) bir milletin, varlığını sürdürmesinin temel koşullarındandır. Atatürk hem Kurtuluş Savaşı hazırlık döneminde hem de kurtuluş savaşı bittikten sonra ülkenin tam bağımsız bir yapıya kavuşması için çeşitli uygulamaları hayata geçirmiştir. Atatürk, son Osmanlı Mebusan Meclisi'nin açılmasından önce Ankara'da seçilen mebuslarla yapılan toplantılarda tam bağımsızlık için mecliste çeşitli kararların alınmasını istemiştir.

Buna göre Misakımillî'de yer alan aşağıdaki kararlardan hangisi Mustafa Kemal'i destekler niteliğe sahiptir?

- A) Siyasi, mali ve adli gelişmemizi engelleyen sınırlamalar kabul edilemez.
- B) Batı Trakya'nın geleceği referandum ile belirlenecektir.
- C) Araplar kendi geleceklerini kendileri belirleyecektir.
- D) Mondros Ateşkesi imzalandığı sırada işgal edilmiş bölgeler kesin Türk yurtdur, parçalanmaz.

10. Sevr Antlaşması, imzalanmasına rağmen hiçbir zaman yürürlüğe girmemiştir. Büyük Millet Meclisi ve Mustafa Kemal daha antlaşma imzalanmadan Türk topraklarını parçalayacak, millî birlik ve beraberliği bozacak bir antlaşmanın kabul edilemeyeceğini tüm dünyaya duyurmuştu. Büyük Millet Meclisinin antlaşmaya tepkisi çok sert oldu. 19 Ağustos 1920'de alınan bir kararla antlaşmayı onaylayan ve imzalayanlar vatan haini ilan edildi. Sevr Antlaşması hiçbir zaman Türk milletini karamsarlığa düşürmedi. Tam aksine mücadele gücünü ve kararlılığını artırdı. Mustafa Kemal ve arkadaşlarının başlattığı Millî Mücadele'nin ne kadar haklı olduğunu bir kez daha gösterdi. Bu antlaşmayla Türk milleti hak ve bağımsızlığının ancak düşmanla mücadele edilerek kazanılacağını bir kez daha ortaya çıkardı.

Verilen bilgilerden hareketle Sevr Barış Antlaşmasıyla ilgili aşağıdakilerden hangisine ulaşamaz?

- A) Türk milleti antlaşmanın bazı maddelerini olumlu bulmuştur.
- B) Mustafa Kemal imzalanan bu antlaşmaya sert tepkiler göstermiştir.
- C) Sevr Antlaşması vatanının parçalanmasına zemin hazırlayacak özelliklere sahiptir.
- D) İmzalanan antlaşma Kurtuluş Savaşına olan inancı arttırmıştır.

1. Müslüman, olayların, ilahî düzenin ve kanunların çerçevesinde, sebep sonuç ilişkisi içerisinde olup bittiğinin bilincindedir. Yani tohum ekilmeden ürün elde edilmez. İlaç kullanılmadan tedavi olunmaz. Bu bilinçle, gerekenleri eksiksiz yerine getirmeye çalışır. Ondan sonra hayırlı bir netice için Allah'a (c.c.) dua eder.

Bu metinde aşağıdakilerden hangisi vurgulanmıştır?

- A) Tevekkülde yapılması gerekenleri yerine getirmenin önemi
B) Kader değişmeyeceği için tevekkülün önemli olmadığı
C) Tevekkülde duanın sonuç almada yeterli olduğu
D) Sadece Müslümanların tevekküllü davrandığı

2. Aşağıdakilerden hangisi Hz. Musa'nın (a.s.) hayatından bir kesit değildir?

- A) Firavun'a tevhide tebliğ etmesi
B) Firavun'un sarayında büyümesi
C) Kendisine inananları Kızıldeniz'den geçirmesi
D) Kardeşleri tarafından kuyuya atılması

3. Bir işi murâd etme
Olduysa inâd etme
Haktandır o red etme
Mevlâ görelim neyler
Neylerse güzel eyler...

Erzurumlu İbrahim Hakkı

Bu şiirde dile getirilen ve Allah'ın (c.c.) takdiri olduğu için yaşanan her şeyi kabullenme aşşağıdaki deyimlerden hangisiyle ilişkilendirilebilir?

- A) Kadere rıza göstermek
B) Kader birliği yapmak
C) Kadere isyan etmek
D) Kaderine küsmek

4. 1. Gördün mü, o hesap ve ceza gününü yalayanı!
2-3. İşte o, yetimi itip kakan, yoksula yedirmeyi özendirmeyen kimsedir.
4. Yazıklar olsun o namaz kılanlara ki,
5. Onlar namazlarını ciddiye almazlar.
6. Onlar (namazlarıyla) gösteriş yaparlar.
7. Ufacık bir yardıma bile engel olurlar.

Maûn suresinin yukarıda verilen ayet anlamlarında aşağıdakilerden hangisi eleştirilmemiştir?

- A) İbadetlerinde samimi olmayanlar
B) Sadece belli zaman dilimlerinde yardım yapanlar
C) İbadetlerine özen göstermeyenler
D) İhtiyaç sahiplerine değer vermeyenler

5. • "Mallarını Allah yolunda harcayıp da arkasından başa kakmayan, fakirlerin gönlünü kırmayan kimselerin Allah katında ödülleri vardır. Onlara korku yoktur ve onlar üzülmeyeceklerdir."

(Bakara suresi, 262. ayet)

- "Eğer sadakaları (zekât ve benzeri hayırları) açıktan verirsiniz ne güzel! Eğer onu fakirlere gizlice verirsiniz, işte bu sizin için daha hayırlıdır. Allah da bu sebeple sizin günahlarınızı örter. Allah, yapmakta olduklarınızı bilir."

(Bakara suresi, 271. ayet)

Bu iki ayete göre ulaşılabilecek ortak yargı aşağıdakilerden hangisidir?

- A) Manevi destek de yardımın bir türüdür.
B) Verilecek yardım, malın iyisinden olmalıdır.
C) Yardım yaparken fakirlerin onuru korunmalıdır.
D) Yardımda yakın çevredeki fakirlere öncelik verilmelidir.

6. Çok ağır bir hastalık geçiren Zeynep Hanım, "Ne yapayım, kaderim buymuş." diyerek tedavi için çaba sarf etmemiştir. Onu ziyarete giden komşusu Ebru Hanım, Zeynep Hanım'ı bu yanlış düşüncesinden vazgeçirmek için şu hadisi okumuştur:

Bu metinde boş bırakılan yere aşağıdaki hadislerden hangisinin yazılması en uygundur?

- A) "İnsanların çoğunun kıymetini bilemediği iki nimet vardır: Vücut sağlığı ve boş vakit."
 B) "Ey Allah'ın kulları! Tedavi olunuz. Şüphesiz Allah her hastalığın şifasını yaratmıştır."
 C) "Bir Müslüman'a herhangi bir musibet, bir sıkıntı, bir keder, bir üzüntü, bir eziyet, bir gam dokunursa, hatta kendisine bir diken bile batarsa, mutlaka Allah bunları onun günahlarına kefaret yapar."
 D) "Kim bilgisi olmadığı halde hekimlik yapmaya kalkışrsa, sebep olacağı zararı öder."

7. Çiftçi Mehmet Amca bütün masraflar çıktıktan sonra elinde kalan 5 ton pirincin zekâtını vermek istemiştir.

Çiftçi Mehmet Amca'nın vereceği zekâtla ilgili olarak aşağıdakilerden hangisi söylenemez?

- A) Vereceği zekâta oşür de denilmektedir.
 B) 500 kilogram pirinci zekât olarak vermelidir.
 C) Elinde kalan ürünün % 10'unu zekât olarak ayırmalıdır.
 D) Zekâtını dağıtırken bakmakla yükümlü olduğu çocuklarına öncelik vermelidir.

8. "Ey kavmim ölçüyü ve tartıyı adalette tam yapın. İnsanların eşyalarını (mallarını ve haklarını) eksiltmeyin. Yeryüzünde bozgunculuk yaparak karışıklık çıkarmayın. Eğer inanan kimselerseniz Allah'ın bıraktığı helâl kazanç sizin için daha hayırlıdır. Ben sizin başınızda bir bekçi değilim."

(Hûd suresi, 85-86. ayetler)

Hız. Şuayb'ın (a.s.) kavmine seslenişini anlatan bu ayetlere göre aşağıdakilerden hangisi söylenebilir?

- A) Gönderildiği kavmini kul hakkına karşı uyarmıştır.
 B) Gönderildiği kavim putperesttir.
 C) Hz. Şuayb (a.s.), tebliğ görevini yerine getirdiği için kavmi tarafından dışlanmış.
 D) Hz. Şuayb'a (a.s.) inanmadığı için bu kavim helak edilmiştir.

9. I. "Her toplumun (belirli) bir eceli vardır. Eceleri geldiğinde onu ne bir an erteleyebilirler ve ne de bir an öne alabilirler."

(A'râf suresi, 34. ayet)

- II. "(Ey insanlar!) Biz sizi basit bir sudan yaratmadık mı? İşte o suyu, belli bir süreye kadar sağlam bir yere yerleştirdik, sonra da ona ölçülü bir biçim verdik..."

(Mürselât suresi, 20-23. ayetler)

Bu ayetler Allah'ın (c.c.) yarattığı yasalardan hangilerine örnektir?

	I	II
A)	Toplumsal	Toplumsal
B)	Fiziksel	Biyolojik
C)	Toplumsal	Biyolojik
D)	Biyolojik	Fiziksel

10. Sadaka-i cariye ibadeti yapan bir Müslüman bununla aşağıdakilerden hangisini amaçlamış olabilir?

- A) Fakirleri doyurmayı
 B) Sahip olduğu malın zekâtını vermeyi
 C) Ramazan Bayramı'na sağlıklı kavuşmanın şükürünü yerine getirmeyi
 D) Öldükten sonra da sevabı devam edecek amel yapmayı

Din Kültürü ve Ahlak Bilgisi Testi Bitti.
İngilizce Testine Geçiniz.

1 – 4: For these questions, choose the best option to fill in the blanks.

1. **Mary:** Can you tell me more about Susan? What's she like?
Jennifer: Susan? She's definitely stubborn. It's impossible to change her mind after she makes a decision.
Mary: -----?
Jennifer: She's someone I can trust. She never turns her back on me.
- A) Why do you think you're always arguing with her
 B) How many true friends does she have
 C) What makes you believe she's a bad friend
 D) How on earth can you be friends with her then
2. **Larry:** Is the phone ringing?
Andrew: I think so.
Larry: What are you waiting for? -----!
Andrew: OK, I'm on it.
- A) Knead the dough like this
 B) Be nice to each other
 C) Go and answer it
 D) Dial this number
3. **Gary:** -----.
Richard: I don't believe it! It's the best music type.
Gary: No way! I can't stand such loud music.
- A) Rock music is great
 B) I find rock music unbearable
 C) I don't think rock music is bad
 D) You should listen to rock music too

4. **Martha:** It's dinner time! Come and sit!
Kevin: Chicken! Oh, it's so delicious. -----? How did you make it?
Martha: I did nothing special. I just roasted it.
Kevin: It's finger licking good.
- A) What is the recipe
 B) Do you want me to slice it
 C) How many eggs do you need
 D) At what temperature do I bake it

5: Answer this question according to the invitation card below.

5.

Dear Kerem,

We are organizing a birthday party for Mr Andy Woodpecker, our Maths teacher. It's going to be at Frank's Café at 4 p.m. on Saturday. Would you like to come? See you soon.

Yağmur
 Your classmate

Which of the following matching is WRONG about the invitation card above?

A)	Sender:	Yağmur
B)	Receiver:	Andy Woodpecker
C)	Time:	4 p.m.
D)	Place:	Frank's Café

6 – 7: Answer these questions according to the passages below.

Goulash

Goulash is from Hungarian cuisine. Goulash means 'herdsman'. There is beef, vegetables, red onions and spices in this delicious stew. Hungarians cook it very slowly for the best flavor.

Pot-au-Feu

Pot-au-Feu is from French cuisine. It means 'pot in the fire'. It is a soupy type of stew with steak, vegetables and spices. This winter dish keeps people nice and warm.

Bulgogi

Beef bulgogi is from Korean cuisine. Bulgogi means fire meat. They first marinate meat in soy sauce, sesame oil, garlic, onions, ginger and sugar. Then they cook on a grill or barbecue. Korean people often eat it wrapped in lettuce or spinach leaves.

6. The texts above are from a(n) -----.

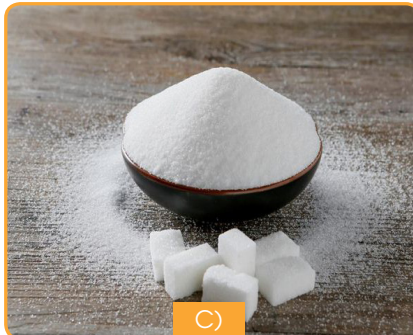
A) album cover

B) phone directory

C) cookbook

D) postcard

7. What is the main ingredient for goulash, pot-au-feu and bulgogi?



8. Which one is the best option for the correct order of the dialogue given below?

- I. Oh, I understand. Can I leave a message for him?
 II. I'm afraid I can't. He left the office for lunch a couple of minutes ago.
 III. This is Tom speaking. How can I help you?
 IV. Hello, Tom. Can you put me through to Mr Penny, please?

A) III - IV - II - I

B) I - II - IV - III

C) III - II - I - IV

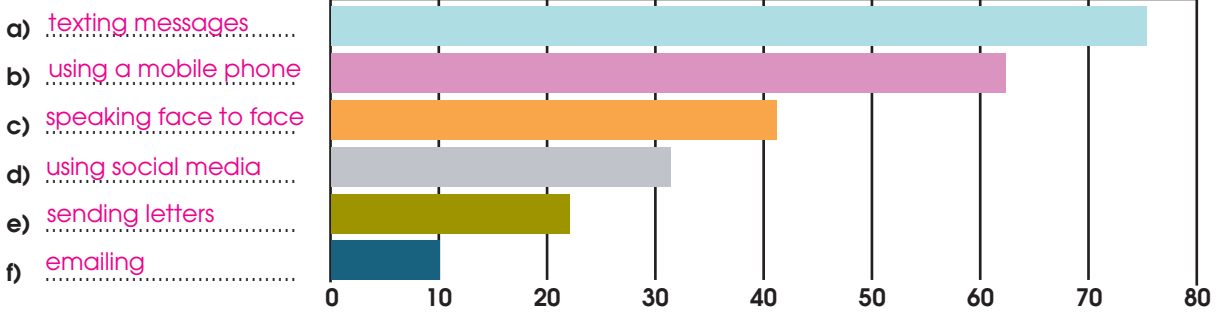
D) II - IV - III - I

9 – 10: Answer these questions according to the passage and graph below.

What's your favorite means of communication with your friends? Texting messages, speaking face to face, talking on landlines, making and receiving voice calls on mobile phones, exchanging emails through social networking sites, or sending letters? I personally prefer face-to-face communication. Would you like to know about other teens' choices? Here come the statistics.

- 73% of teens say that they send text messages to stay in contact with friends.
- 64% prefer making phone calls through their mobile phones.
- 41% of them talk to each other face to face.
- 33% of them send messages through social networking sites every day.
- 22% of teens love to talk on a home phone in their daily lives.
- 10% of teens send emails on a daily basis.

So, the most popular means of communication is texting messages and the least one is emailing. The interesting thing is no one sends any letters any more. Why do you think texting messages is liked so much? Perhaps it's easy and cheap.



9. According to the passage, which of the following means of communication is WRONG on the graph above?

A) texting messages

B) using a mobile phone

C) sending letters

D) emailing

10. What does the underlined phrase "on a daily basis" in the passage above mean?

A) twice a month

B) every day

C) hardly ever

D) sometimes